

# INTERROGATION SUR LES ATOMES ET LES MOLECULES


NOM :





Prénom :

Classe :

• Consigne :

Compléter les deux tableaux suivants.

Nom de l'atome	Symbole	Modèle
Hydrogène		
	O	
		
Azote		

Nom de la molécule	Formule	Nombre total d'atomes dans la molécule	Constitution	Modèle
Dioxygène				
	H <sub>2</sub>			
			2 atomes d'hydrogène et 1 atome d'oxygène	
	CO <sub>2</sub>			
	CH <sub>4</sub>			