

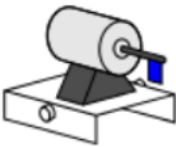







# PB-C2-CONTRÔLE-SUJET A

## Exercice 1 : Rappels de cours

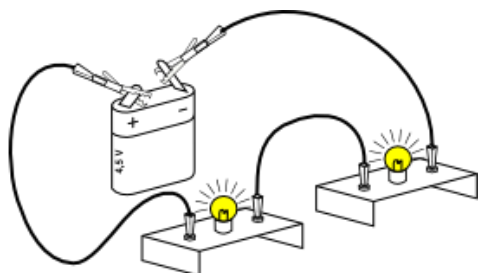
1-Indiquer le nom et représenter le symbole normalisé de chaque dipôle.

				
<b>Nom du dipôle</b>				
<b>Symbole normalisé</b>				
				
<b>Nom du dipôle</b>				
<b>Symbole normalisé</b>				

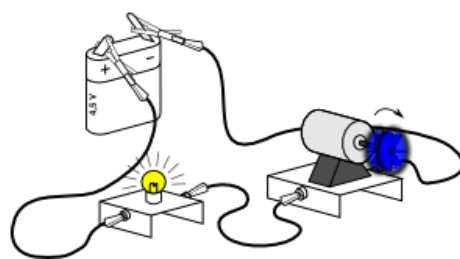
## Exercice 2 : Représentation d'un circuit électrique

1-Réprésente **A LA REGLE** à l'aide des symboles normalisés les circuits suivants.  
**Veillez à bien respecter l'ordre des dipôles.**

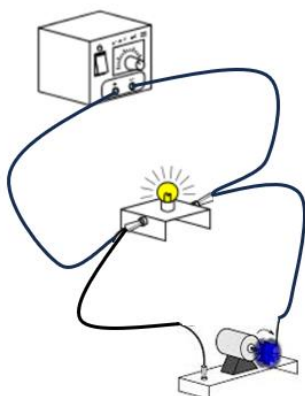
**Circuit 1**



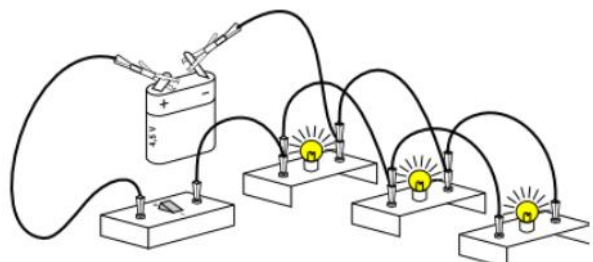
**Circuit 2**



**Circuit 3**



**Circuit 4**



2-Indique les numéro des circuits en série sur ta copie.